




問4 下線部dに関して、次のA～Cは2月、6月、10月のいずれかの日本の月降水量の平年値を示しています。その組合せとして正しいものを、下記より1つ  
 選び番号で答えなさい。



A



B



C

- |   |   |     |   |     |   |     |
|---|---|-----|---|-----|---|-----|
| 1 | A | 2月  | B | 6月  | C | 10月 |
| 2 | A | 2月  | B | 10月 | C | 6月  |
| 3 | A | 6月  | B | 2月  | C | 10月 |
| 4 | A | 6月  | B | 10月 | C | 2月  |
| 5 | A | 10月 | B | 6月  | C | 2月  |
| 6 | A | 10月 | B | 2月  | C | 6月  |

※図は気象庁ウェブサイトより