

解答用紙 適性検査Ⅱ

受 検 番 号

得 点
※

※のらんには、記入しないこと

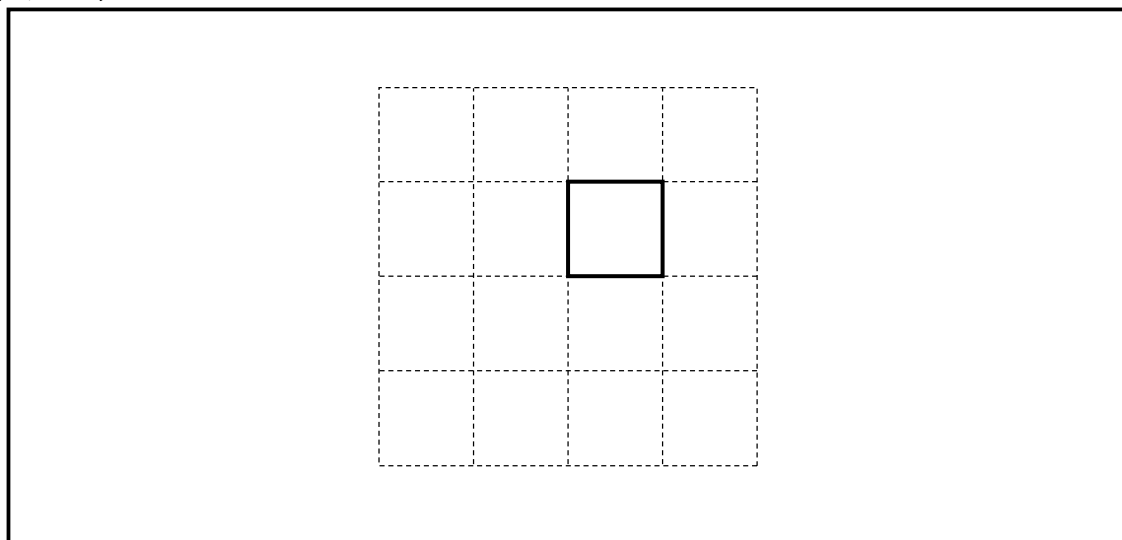
1

〔問題1〕

求めるもの	式
てんかいず 展開図の面積	cm^2

※

〔問題2〕



※

2

〔問題1〕

(1) (選んだ一つを○で囲みなさい。)	
ペットボトル	紙

〈選んだ製品の循環利用率〉	％

〈答え〉	の方が高い。
(2)	
〈共通点〉	

〈異なる点〉	

※

〔問題2〕

(選んだ一つを○で囲みなさい。)	
カード1	カード2

※

3

〔問題1〕

〔液体〕
〔理由〕

※

〔問題2〕

※

解答用紙 適性検査Ⅱ

受 検 番 号

得 点
※

※のらんには、記入しないこと

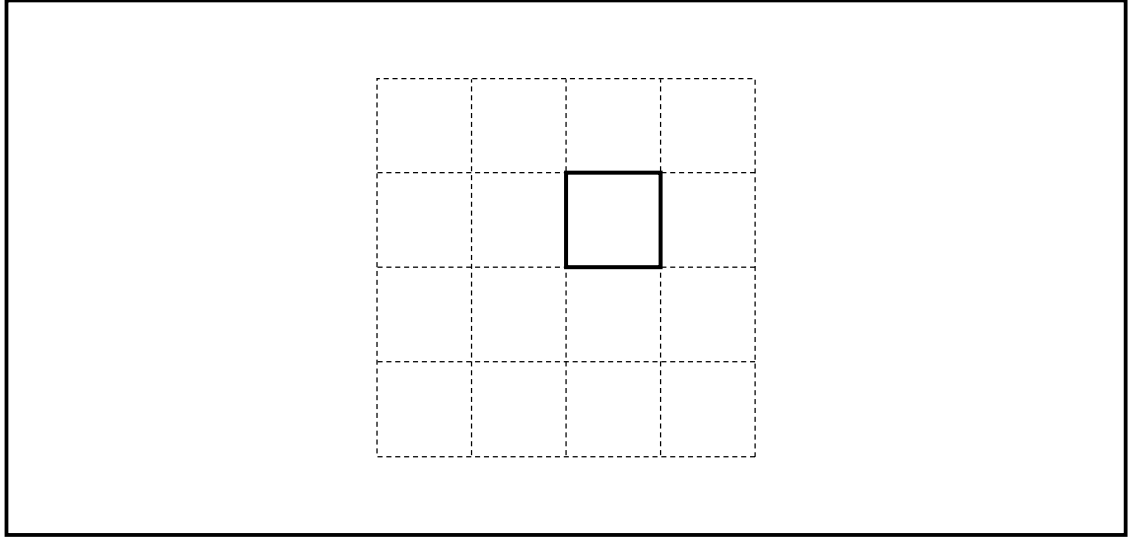
1

〔問題1〕

求めるもの	式
てんかいず 展開図の面積	cm^2

※

〔問題2〕



※

2

〔問題1〕

(1) (選んだ一つを○で囲みなさい。)	
ペットボトル	紙

〈選んだ製品の循環利用率〉	％

〈答え〉	の方が高い。
(2)	
〈共通点〉	

〈異なる点〉	

※

〔問題2〕

(選んだ一つを○で囲みなさい。)	
カード1	カード2

※

3

〔問題1〕

〔液体〕
〔理由〕

※

〔問題2〕

※

解答用紙 適性検査Ⅲ

受 検 番 号

得 点
※

※のらんには、記入しないこと

1

〔問題1〕

(ア)		(イ)	
(求め方)			

※

〔問題2〕

植える場所	
-------	--

※

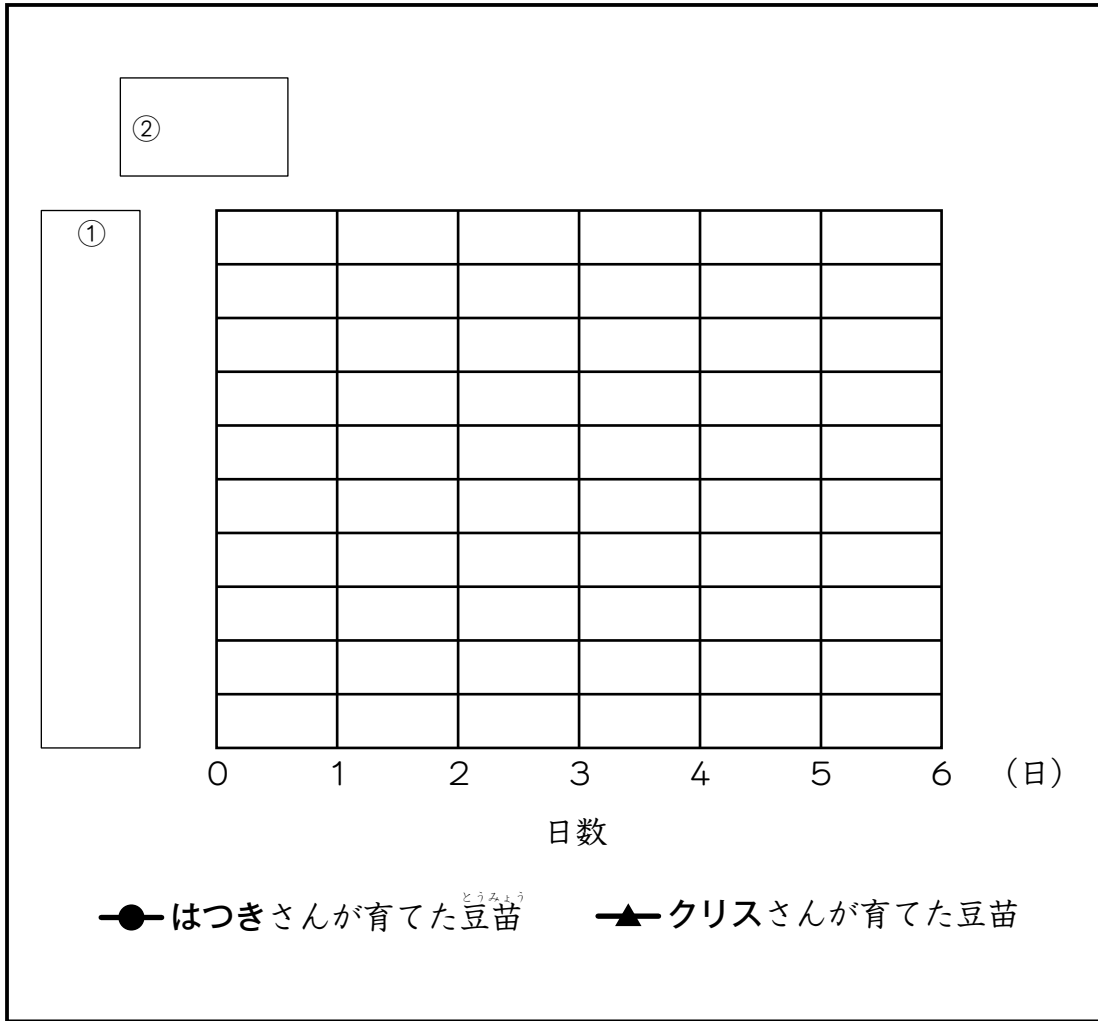
〔問題3〕

1年生	箱	2年生	箱
-----	---	-----	---

※

2

〔問題1〕



〔問題2〕

