

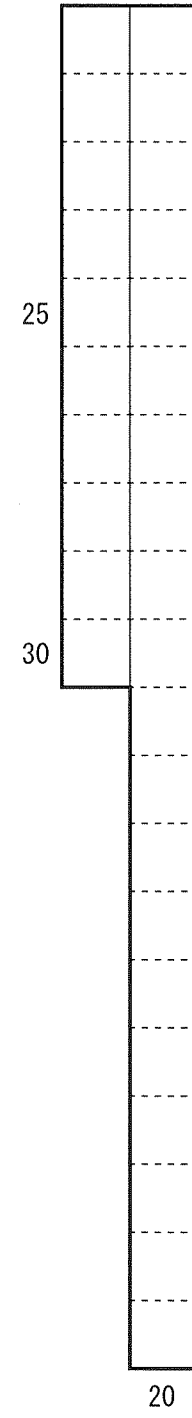
解答用紙  
適性検査Ⅰ

1

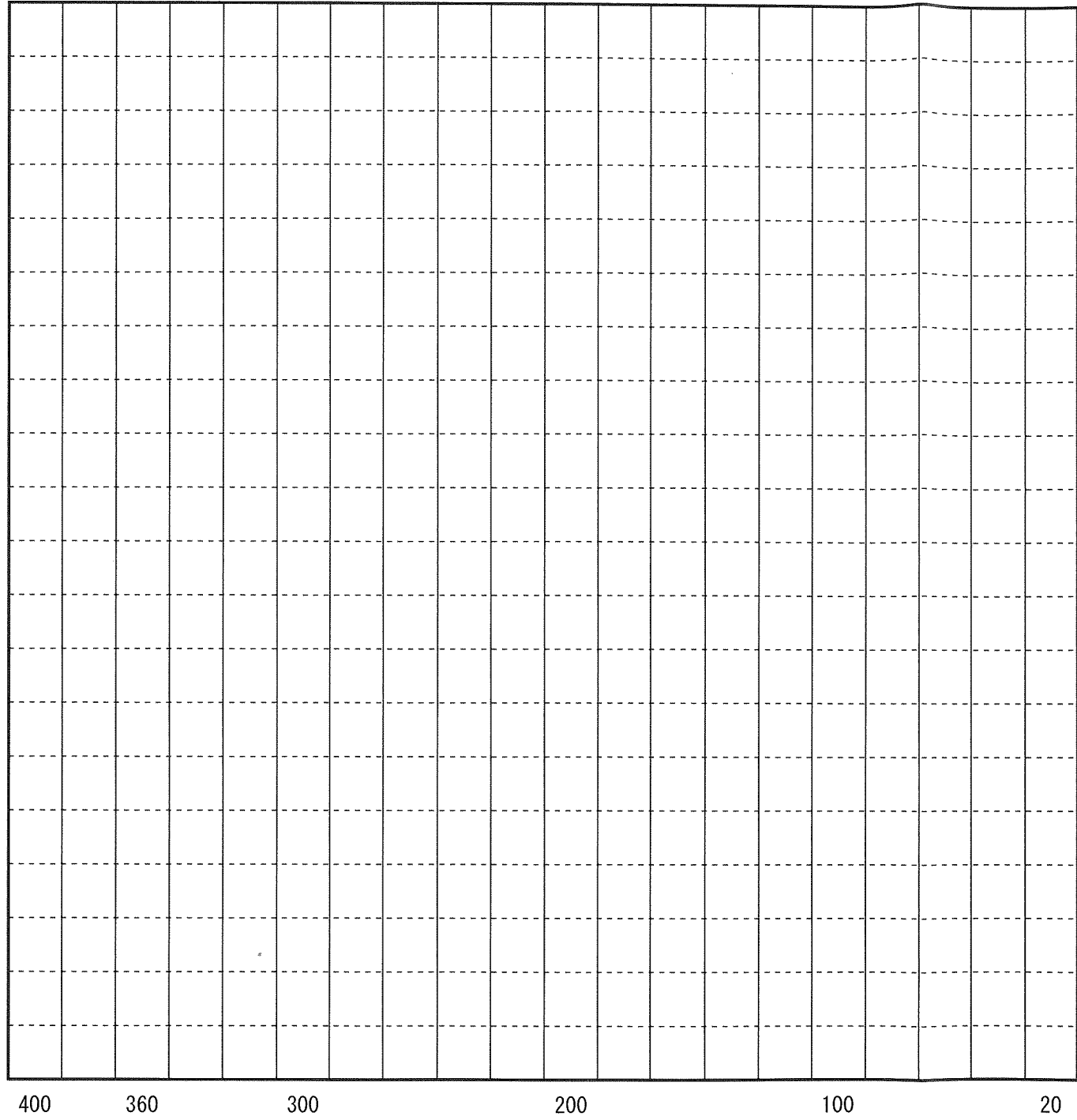
(問題1)



(問題2)



(問題3)



受 検 番 号	
得	点
※	

※のらんには何も記入しないこと

(問題1)

(1)
(2)

※

(問題2)

(1)
(2)

※

# 解答用紙 適性検査 II

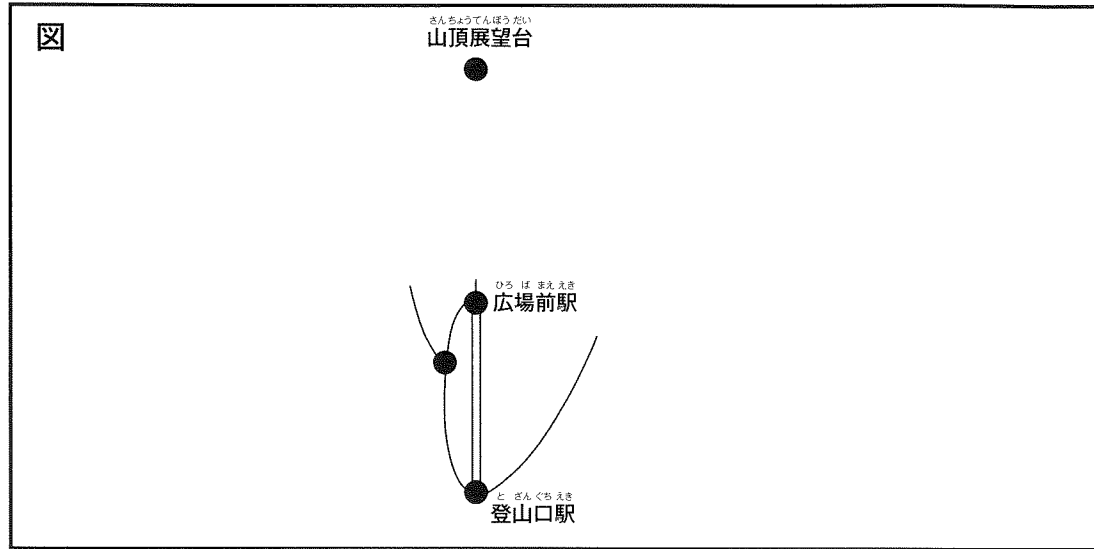
受 検 番 号

得 点
※

※のらんには、記入しないこと

1

〔問題1〕



※

〔問題2〕

ケーブルカーの滑車かっしゃが1回転するためにかかる時間は [                      ] 秒

〔説明〕

※

〔問題3〕

① 〔選んだ乗り物〕      ケーブルカー      ・      リフト

並ならんでいる人が [                      ] 人以下なら徒歩より早く着く

〔説明〕

② 〔あなたが選ぶ方法〕      徒歩      ・      ①で選んだ乗り物

〔理由〕

※

2

〔問題1〕

(選んだ一つを○で囲みなさい。)

第2次産業                      第3次産業

※

〔問題2〕

(図2と図3から一つずつ選んで○で囲みなさい。)

図2 : ①    ②    ③                      図3 : ④    ⑤    ⑥

〔農家の人たちの立場〕

〔農家以外の人たちの立場〕

※