



解答用紙 適性検査Ⅱ

受 検 番 号

得 点
※

※のらんには、記入しないこと

1

〔問題1〕

〔道順〕

スタート

倉庫

( ) →

→ ケ

〔式と文章〕

※

〔問題2〕

ヒント（え）：全ての電球の明かりが消えている状態で、

と  と  のスイッチをおしたあと、

明かりがついていたのは①と②の電球であった。

表5 <sup>たろう</sup>太郎さんと花子さんがさらに書きこんだ表

	①の電球	②の電球	③の電球	④の電球
Aのスイッチ	×	○	○	×
Bのスイッチ				
Cのスイッチ				
Dのスイッチ	×			
Eのスイッチ	○			

※

2

〔問題1〕

(選んだ一つを○で囲みなさい。)

第2次産業

第3次産業

※

〔問題2〕

(図2と図3から一つずつ選んで○で囲みなさい。)

図2： ① ② ③

図3： ④ ⑤ ⑥

〔農家の人たちの立場〕

〔農家以外の人たちの立場〕

※

3

〔問題1〕

(1)
(2)

※

〔問題2〕

(1)
(2)

※

解 答 用 紙 適 性 検 査 III

受 検 番 号

得 点
※

※のらんには、記入しないこと

1

〔問題1〕

A	円	B	円	C	%
---	---	---	---	---	---

※

〔問題2〕

--

※

〔問題3〕

ア	イ	ウ
エ	オ	カ

※


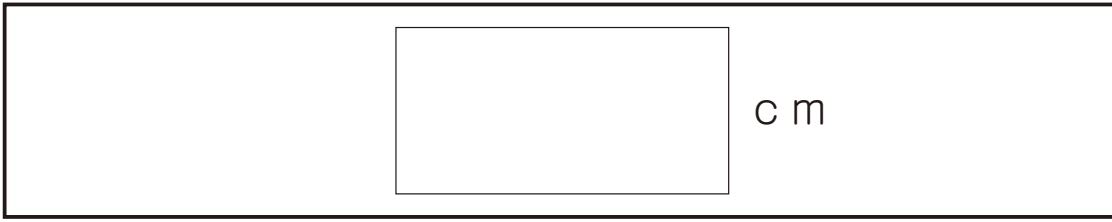
〔問題4〕

トラ	トラ	キジ	バク	キジ
ゾウ	クマ	トラ	トラ	バク
トラ	ゾウ	クマ	ゾウ	クマ
トラ	ゾウ	キジ	ゾウ	バク



※


2

〔問題1〕



〔問題2〕

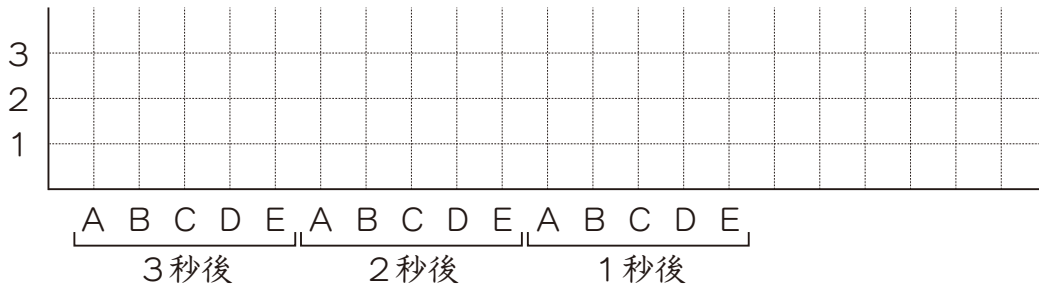
クレープ生地 <sup>きじ</sup> の中心と中心 <sup>かんかく</sup> の間隔	 c m
機械Aと機械Bとの回転 <sup>じく</sup> の軸の間隔	 c m
理由	





〔問題3〕

(1) <3秒後までの状態を表す図>



(2)

機械 A		機械 B		機械 C	
機械 D		機械 E			

